

CORRECTION**Français****1) Lecture – Compréhension de texte (30 mn)****Chapitre 5**

- 1- Un seveu sur la langue
- 2- C'est la maison de gauche
- 3- Le serpent est un bouquiniste c'est-à-dire qu'il collectionne les livres anciens.
- 4- Je n'y vois pas grand-chose. Attendez une minute, je vais chercher mes lunettes.
- 5- Le serpent ne peut pas être le voleur car il porte sur le nez les lunettes qu'il a achetées chez l'opticien. Il ne peut donc pas les avoir perdues chez Monsieur Lapin.

Chapitre 6

- 1- Ah, l'amour !
- 2- Egoïste : **adjectif** (dans le livre : « **je te trouve un peu égoïste** ») et nom (par exemple : tu es **un** égoïste). Une personne égoïste ne pense qu'à elle et pas aux autres.
- 3- Monsieur Lapin a très peur qu'on se moque de lui.
- 4- Ah, l'amour, c'est quand même mieux qu'un casque de moto !
- 5- Le commissaire Mastiff téléphone à Monsieur Lapin. Il lui demande de se rendre de toute urgence au commissariat.

2) Travail sur le son [f] (30 mn)**- Fiche d'exercices**

- 1) de la farine – du fromage – un fruit – du café – de la confiture – un œuf -
- 2) le téléphone – neuf – froid
- 3) du café – des feuilles – un œuf
- 4) La feuille tombe – Cette photo est belle – Un enfant joue – Mon oeuf est frais

3) Le présent des verbes en -ir- oir et -re : *phase d'apprentissage* (30 mn)**■ Exercice 8 p.53 « Outils pour le français » :**

Il fait **t** attention à ses affaires.
Elles dis**ent** n'importe quoi.
Je prend**s** le train.
Vous voy**ez** un magnifique paysage.
Mila vient **t** d'arriver.

Exercice 9 p.53

Vous **faites** du feu dans la cheminée.
Vous **allez** au parc en vélo.
Vous **pouvez** venir à pied.

Mathématiques

1- Numération : (10mn)

■ Écrire le nombre en lettres sur ton cahier : 364 \Rightarrow **trois-cent-soixante-quatre**

■ Ecris le nombre de plaques de cent (C), de barres de dix (D) et de cubes unités (U) qu'il faut pour fabriquer : - trois-cent-quatre-vingt-quinze \Rightarrow **395** \Rightarrow **3 C 9 D 5 U**

- quatre-cent-trente-huit \Rightarrow **438** \Rightarrow **4 C 3 D 8 U**

- cinq-cent-dix-neuf \Rightarrow **519** \Rightarrow **5 C 1 D 9 U**

On peut classer ces nombres dans un tableau de numération

C	D	U
3	9	5
4	3	8
5	1	9

2- Calcul mental : (15 mn)

■ $29 + 13 = 42$; $70 + 130 = 200$; $278 - 5 = 273$

Fiche calcul (1)	Fiche calcul (2)
$39 + 10 = 49$	$79 - 10 = 69$
$73 + 10 = 83$	$99 - 10 = 89$
$99 + 10 = 109$	$153 - 10 = 143$
$10 + 125 = 135$	$280 - 10 = 270$
$174 + 10 = 184$	$657 - 10 = 647$

3- Addition : réinvestissement sur la commutativité (10mn)

Calcule en organisant les nombres pour créer des dizaines :

$$23 + 12 + 7 + 8 = 23 + 7 + 12 + 8 = 30 + 20 = 50$$

$$2 + 17 + 8 + 33 = 2 + 8 + 17 + 33 = 10 + 50 = 60$$



La boîte à énigmes ★★

3



A- Quel est le poids de mon enveloppe ? **L'enveloppe pèse 240 grammes**

B- Il faut payer 1€ pour les lettres de moins de 100g, 2€ pour les lettres de 200 g à 300g et 2€50 pour les lettres entre 300g et 500g. **Combien faut-il payer ? Il faut payer 2 euros.**



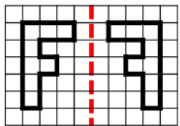
La boîte à énigmes ★★

4



A- Combien y a-t-il de macarons ? **On compte 28 macarons ($5 \times 6 - 2 = 28$)**

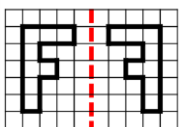
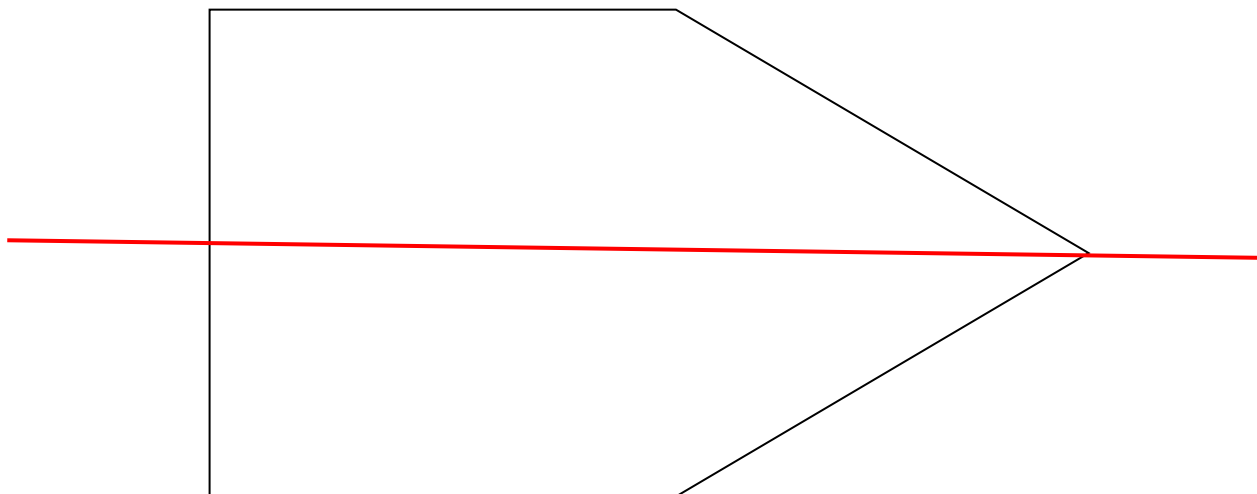
B- Combien de macarons contient une boîte pleine ? **Un boîte pleine contient 30 macarons ($5 \times 6 = 30$)**



LE MIROIR ★

3

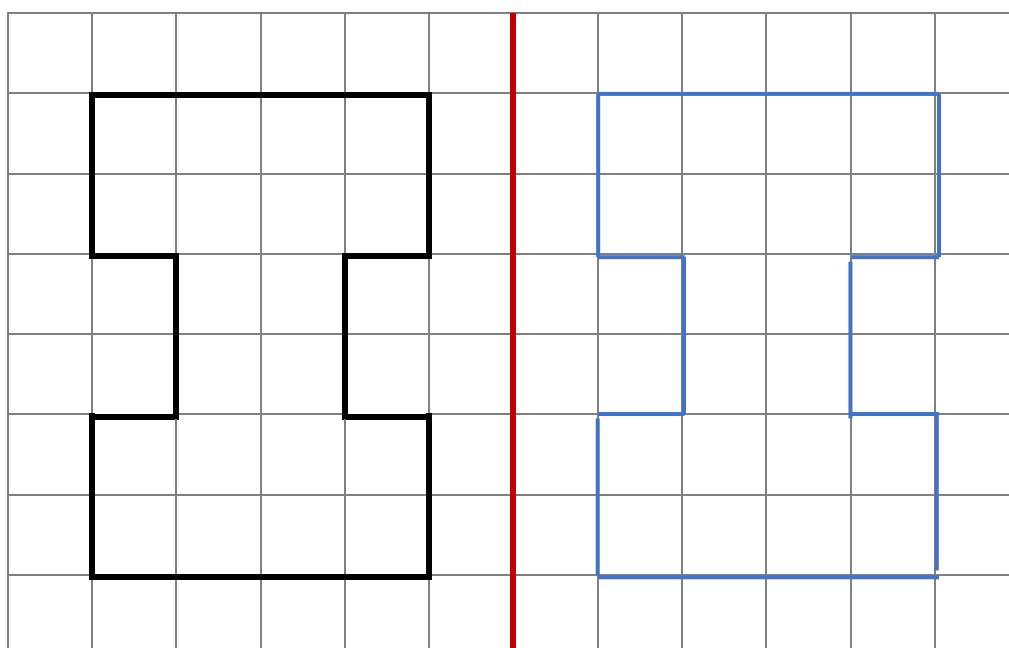
Trouve et trace en rouge le ou les axes de symétrie :



LE MIROIR ★

4


Trace la figure symétrique par rapport à l'axe rouge:




English – food

■ Ecoute le fichier audio puis répons aux questions :

What does Kelly like  to eat ?

a- chips 

b- ice-cream 

c- candies 

d- chicken 