



## Exercices sur la monnaie

1/ Barre ce qui est en trop pour faire la somme demandée



	
<p>7 € 50</p>	<p>5 € 50</p>

2/ Dessine le moins de pièces et de billets possibles pour faire la somme demandée :

<p>123€20</p>	<p>174€60</p>
---------------	---------------

## Exercices sur la monnaie

1/ Barre ce qui est en trop pour faire la somme demandée

	
<p>7 € 50</p>	<p>5 € 50</p>

2/ Dessine le moins de pièces et de billets possibles pour faire la somme demandée :

<p>123€20</p>	<p>174€60</p>
---------------	---------------