

Hello everyone ! Jeudi 26 mars 2020

### Rituels Anglais

What's the date today ? Thursday, March 26<sup>th</sup>

Today is ...

Yesterday was ...

Tomorrow will be ...

How are you ? I am \_\_\_\_\_

What's the weather like ? It's \_\_\_\_\_ and \_\_\_\_\_

### Énigme du jour

	M. Talle	Mme Pitt	M. Evcle
Fenêtre	M. Pitt	Mme Evcle	Mme Talle

① Place d'abord les hommes et les femmes.  
Aucun homme n'est assis à côté d'un autre homme mais ils peuvent être l'un en face de l'autre.

② Ensuite, c'est assez facile de placer les différents couples.

## Mesures : le périmètre

Le périmètre d'une figure plane, c'est la mesure de son contour.

Pour mesurer le périmètre de cette figure, ce n'est pas facile. On peut utiliser de la ficelle.



On trouve : P (Périmètre) 15 cm (environ)  
Ce n'est pas très précis mais on ne peut pas vraiment faire mieux, à notre niveau.

Pour un polygone, c'est plus facile : il suffit d'ajouter les mesures des longueurs des côtés.

En utilisant la technique du compas, compare les périmètres de ces deux polygones :

Figure n°1

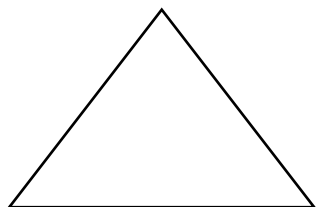
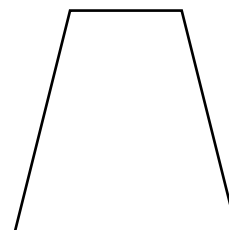
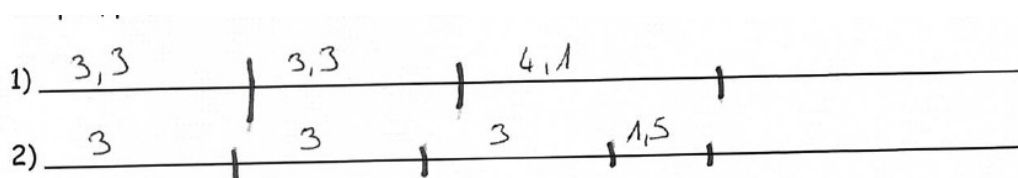


Figure n°2



Reporte sur la droite ci-dessous les mesures des différents côtés (avec le compas, pour chacune des deux figures).



Le périmètre de la figure 1 est plus grand que celui de la figure 2.

Vérifie en calculant les deux périmètres (pour cela, additionne les mesures des côtés).

Figure 1 : Périmètre =  $3,3 + 3,3 + 4,1 = 10,7$  cm

Figure 2 : Périmètre =  $3 + 3 + 3 + 1,5 = 1,5$  cm

Mesure ou calcule : (n'oublie pas les unités)

Le périmètre de ta table de cuisine : Tu mesures tous les côtés et tu additionnes ces mesures.

Le périmètre de ta chambre : Tu mesures tous les côtés et tu additionnes ces mesures.

Le périmètre de la table basse du séjour : Tu mesures tous les côtés et tu additionnes ces mesures.

Le périmètre de ton lit (ton matelas) : Tu mesures tous les côtés et tu additionnes ces mesures.

Le périmètre de la table du salon : Tu mesures tous les côtés et tu additionnes ces mesures.

Calcule les périmètres des carrés suivants :

Calcule les périmètres des carrés suivants :

Mon carré mesure 3 cm, son périmètre mesure  $3 \times 4 = 12$  cm

Mon carré mesure 8 cm, son périmètre mesure  $8 \times 4 = 32$  cm

Mon carré mesure 7 cm, son périmètre mesure  $7 \times 4 = 28$  cm

Mon carré mesure 5 cm, son périmètre mesure  $5 \times 4 = 20$  cm

Calcule les mesures des côtés des carrés suivants :

Mon carré a un périmètre de 24 cm. Son côté mesure 6 cm ( $24 : 4 = 6$ )

Mon carré a un périmètre de 36 cm. Son côté mesure 9 cm ( $36 : 4 = 9$ )

### Orthographe : effectuer les accords

1) Accorde les adjectifs entre parenthèses. Identifie d'abord le nom auquel il se rapporte, en le soulignant.

Une fiche est consacrée aux mots (invariable) invariables. Ces vaches sont trop (maigre) maigres. Quels (étourdi) étourdis ces garçons ! Un vol de canards (sauvage) sauvages traversait le ciel. Une lumière (éclatant) éclatante surgit de l'horizon. Les problèmes étaient (difficile) difficiles. Des animaux (féroce) féroces s'approchaient.

Que tu es (gourmand) gourmande ma fille ! Tu as eu une (excellent) excellente idée.

2) Complète les phrases en accordant les adjectifs qualificatifs ou les participes passés entre parenthèses. Identifie d'abord le nom auquel il se rapporte, en le soulignant.

- (impatient) **Impatiente** mais presque totalement (silencieux) **silencieuse** la foule attendait le nom de l'(heureux) **heureuse** élue.

- Ces animations (musical) **musicales** qui nécessitent beaucoup de matériel (électrique) **électrique** et de (nombreux) **nombreuses** répétitions, sont certainement très (coûteux) **coûteuses**.

- (Affolé) **Affolées** par le bruit de la Jeep, les gazelles s'enfuyaient.

- Les planches, depuis longtemps (exposé) **exposées** à la pluie, étaient totalement (vermoulu) **vermoulues**.

- Carlos et Louisa, malgré leur (jeune) **jeune** âge, étaient (grand) **grands** et (fort) **forts**.

3) Sur Pépites : n°9 page 209 (Écris les groupes nominaux au masculin singulier)

des canes tapageuses → **un canard tapageur**

des juments musclées → **un cheval musclé**

les oies majestueuses → **le jar majestueux**

les vaches paisibles → **le taureau paisible**

### English

1) He **can't** jump.

5) They **can** sing.

2) It **can** swim.

6) She **can** play.

3) She **can** write.

7) He **can't** see.

4) He **can't** swim.

8) They **can** fly.